

TEST: TEC STOLÁR 3. RO NÍK- 1. POLROK

MENO:

TRIEDA:

1. Medzi základné druhy porezov gu atiny patrí:

- a) prizmovaním, do kruhu, na štvrtky
- b) prizmovaním, Moreau, Cantibay
- c) prizmovaním, segmentný, na ostro
- d) Moreau, Cantibay, na ostro

1b

2. Vymenuj funkcie skladu gu atiny: .....

.....

.....

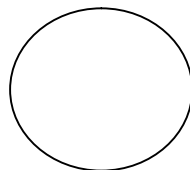
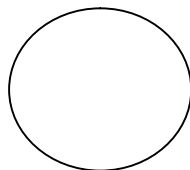
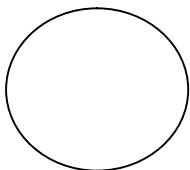
3b

3. Medzi sortimenty piliarskej výroby patrí rezivo:

- a) doskové, hranené, rezané
- b) doskové, hranené, polohranené
- c) doskové, hranené, žrôvina
- d) doskové, hranené, guatina

1b

4. Nakresli tri špeciálne spôsoby porezov gu atiny:



3b

5.Charakterizuj prírez:

.....  
.....  
.....

1b

6.Pri výrobe prírezov rozmietaím upravujeme:

- a) d žku, hrúbka a šírka zostáva
- b) šírku, hrúbka a d žka zostáva
- c) hrúbku, d žka a šírka zostáva

1b

7.Napíš vz ah pre výpo et hrubej spotreby reziva (Hs)

2b

8.Zjednodušená bloková schéma opracovania masívu

7b

9. Vymenuj etapy montáže:

- a) predmontáž, skúšobná, od ah ená, kone ná
- b) predmontáž, suchá, demontáž, pracovná
- c) predmontáž, skúšobná, demontáž, kone ná

1b

HODNOTENIE :

BODY:

ZNÁMKA:

20-18

1

17-14

2

13-9

3

8-6

4

5-0

5